

3-1 日本とつながりの深い国々 日本とつながりのある国

P234~P235

名前

6年 組 番

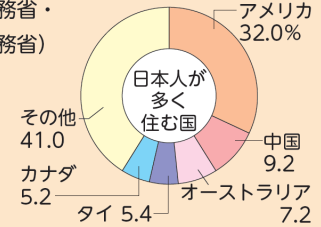
①【ねらい】日本とつながりのある国についてわかり、何を調べるか考える。

②【基本】アとイのグラフを読み取ろう。

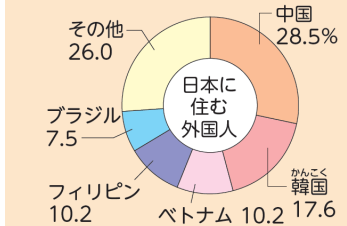
- ・題をそれぞれ読もう。
- ・アのグラフで割合が大きい5つの国をノートに書こう。
- ・イのグラフで割合が大きい5つの国をノートに書こう。

(2017年

外務省・
法務省)



ア 日本人が多く住む海外の国



イ 日本に住む外国人

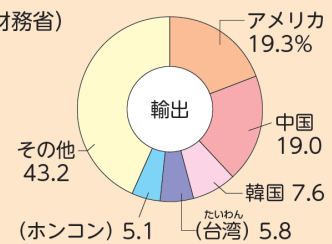
③【ポイント】気づいたことを書こう。

④【基本】ウとエのグラフを読み取ろう。

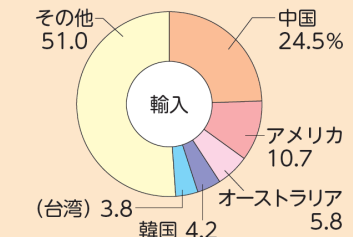
- ・題をそれぞれ読もう。
- ・ウのグラフで割合が大きい5つの国をノートに書こう。
- ・エのグラフで割合が大きい5つの国をノートに書こう。

(2017年

財務省)



ウ 日本の主な輸出相手国



エ 日本の主な輸入相手国

⑤【ポイント】気づいたことを書こう。

⑥アからエのグラフからわかる日本とつながりの深い国について調べるには、何に注目したらよいだろうか。

⑦みんなで作った学習問題をノートに書こう。