


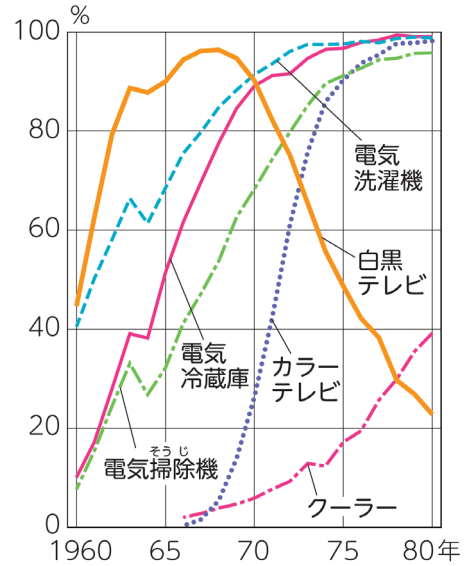
2-11 平和で豊かな暮らしを目指して
産業の発展と国民生活の変化  P224~P225


6年 組 番
名前


①【ねらい】産業が発展したところの人々の暮らしの変化がわかる。

②【基本】グラフ  を読み取ろう。

- ・題，縦軸，横軸を確認しよう。
- ・示されている電気製品を書こう。



❗・【ポイント】日本の電気製品はどのように普及をしたらろう  電気製品の普及か。年に注目して書こう。

※  の資料と関わりのある本文と他の資料を線で結ぼう。

③人々の暮らしはどのように変化したといえるのだろうか。

④人々の暮らしで他のどのような変化があったのだろうか。話し合おう。